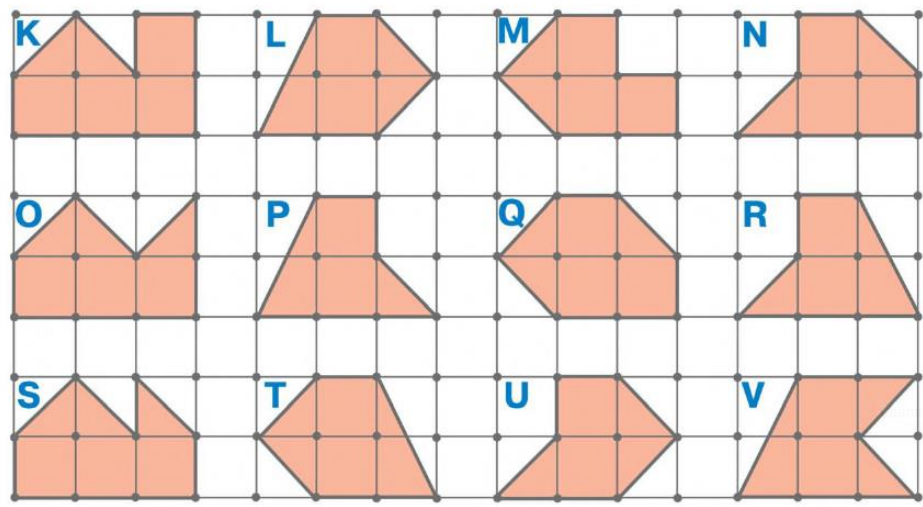


8

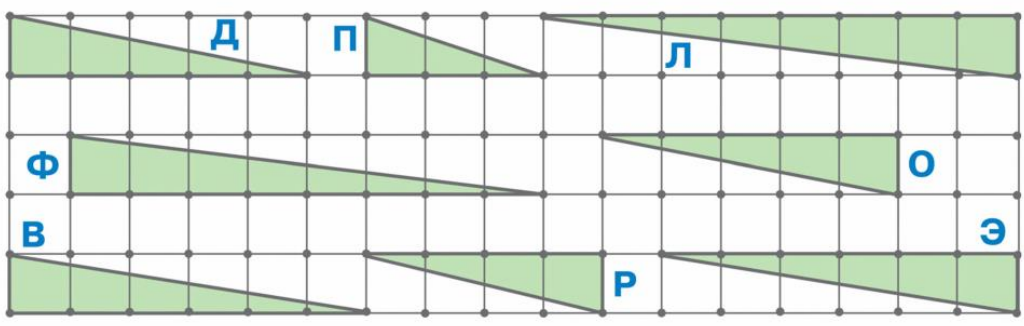
Найди два одинаковых многоугольника на сетке. Напиши ответ по образцу: «Ш = Щ». Нарисуй такой же многоугольник по клеткам в тетради.



Найди ещё одну пару одинаковых фигур. Напиши ответ, используя знак равенства. Нарисуй такой же многоугольник по клеткам в тетради.

10

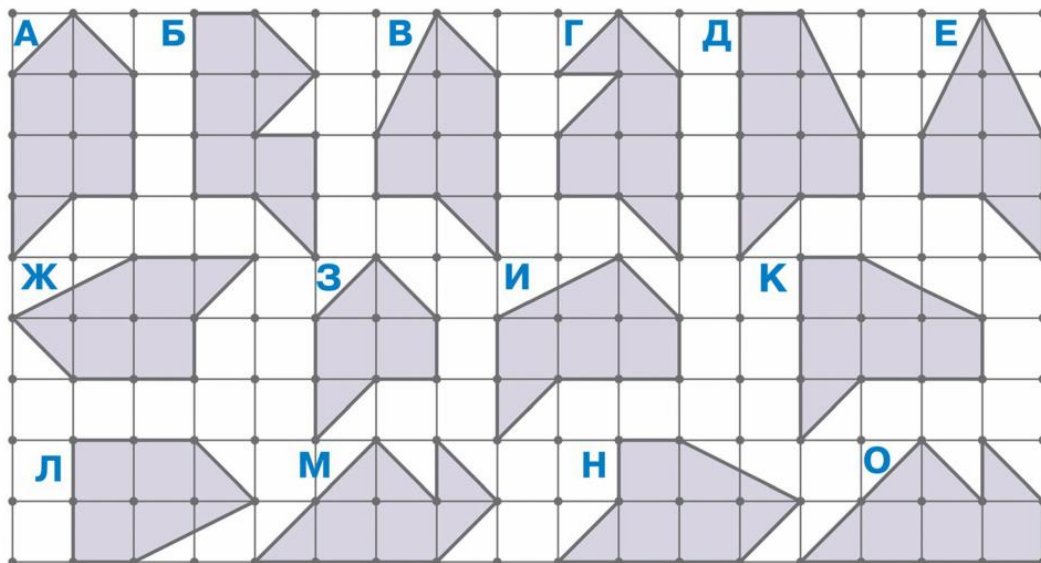
Найди два одинаковых треугольника. Напиши ответ, используя знак равенства. Нарисуй такой же треугольник по клеткам в тетради.



13



Найди два одинаковых многоугольника на сетке. Напиши ответ, используя знак равенства. Нарисуй такой же многоугольник по клеткам в тетради.



14

Реши задачу.

Чтобы Вася вовремя пришёл в школу, мама завела ему сразу два будильника с одинаковыми звуковыми сигналами. Оба будильника должны зазвенеть в 7:00. Затем каждый будильник будет давать повторные звонки до тех пор, пока его не выключат: первый будильник будет давать по одному звонку через каждые 3 минуты, а второй — через каждые 4 минуты. Сколько Вася услышит звонков, если встанет в 7:17 и одновременно выключит оба будильника?